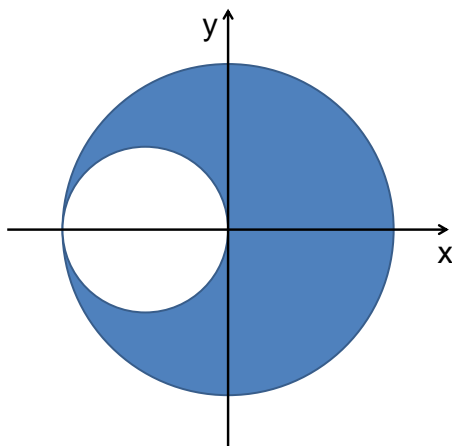


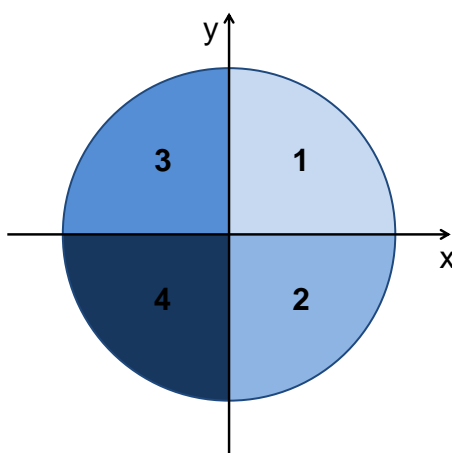
Cvičení 9

1. V kruhovém kotouči konstantní hustoty a poloměru R je vyříznut otvor podle obrázku. Kde leží těžiště tohoto tělesa?



[řešení: $[x_T, y_T] = [R/6, 0]$]

2. Disk o poloměru R byl vytvořen slepením čtyř sekcí vyrobených z různých materiálů. Hustoty materiálů jednotlivých sekcí jsou v poměru podle obrázku. Najděte hmotný střed tohoto tělesa.



[řešení: $[x_T, y_T] = [-\frac{8}{15} \frac{R}{\pi}, -\frac{4}{15} \frac{R}{\pi}]$]

3. Vypočítejte polohu hmotného středu homogenní polokoule o poloměru R .

[řešení: $[x_T, y_T, z_T] = [0, 0, \frac{3}{8}R]$]

4. Vypočítejte moment setrvačnosti homogenního kuželu o hmotnosti M , výšce h a poloměru podstavy R vůči ose otáčení procházející jeho vrcholem a středem podstavy.

[řešení: $J = \frac{3}{10}MR^2$]

5. Vypočítejte moment setrvačnosti homogenní koule o hmotnosti M a poloměru R .

(a) Vůči ose otáčení procházející jejím středem.

(b) Vůči ose otáčení, která je tečnou k povrchu koule.

[řešení: (a) $J = \frac{2}{5}MR^2$, (b) $J = \frac{7}{5}MR^2$]

6. Vypočítejte moment setrvačnosti homogenního kvádrů o hmotnosti M a délkách stran a , b , c vzhledem k ose, která je tělesovou úhlopříčkou.

[řešení: (a) $J = \frac{1}{6}M \frac{a^2b^2+a^2c^2+b^2c^2}{a^2+b^2+c^2}$]

7. Závaží o hmotnosti m se pohybuje po hladké vodorovné ploše stolu. K závaží je přivázána nit, která je vedena malým otvorem ve stole směrem dolů. Na počátku je závaží ve vzdálenosti r_1 od otvoru a pohybuje se po kružnici rychlostí v_1 . Potom za nit zespoda zatáhneme a závaží se přiblíží k otvoru na vzdálenost r_2 .

(a) Jaká bude rychlost v_2 závaží ve vzdálenosti r_2 od otvoru?

(b) Jakou práci W jsme vykonali při přitažení závaží do vzdálenosti r_2 od otvoru?

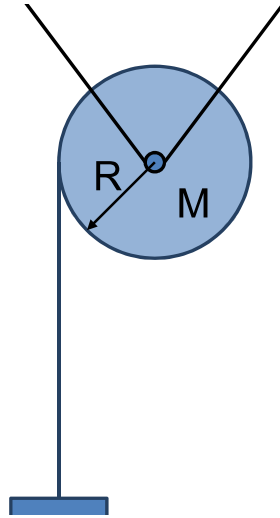
(c) Jaká je hmotnost závaží m_2 , které bychom museli na nit připevnit, aby poloměr kružnice po níž se pohybuje závaží m zůstal r_2 ?

[řešení: (a) $v_2 = v_1 \frac{r_1}{r_2}$, (b) $W = \frac{1}{2}mv_1^2(\frac{r_1^2}{r_2^2} - 1)$, (c) $\frac{m}{g} \frac{v_1^2 r_1^2}{r_2^3}$]

8. Kdyby všechen led na Zemi roztál, střední výška hladiny světového oceánu by se zvedla asi o $h = 61$ m. Odhadněte, jaký by to mělo vliv na délku dne. Při odhadu předpokládejte, že všechen led je na pólech, a zanedbáváme nerovnoměrné rozložení oceánu. Zemi si budeme představovat jako dokonalou kouli o poloměru $R = 6371$ km s momentem setrvačnosti $J_0 = 8.1 \times 10^{37}$ kg.m² vzhledem k ose otáčení procházející jejím středem.

[řešení: Den by se prodloužil zhruba o $\Delta T \approx T_0 \frac{8\pi\rho_v R^4 h}{3J_0} = 0.9$ s]

9. Závaží o hmotnosti m je zavěšeno na vlákne namotaném na plném válci o poloměru R a hmotnosti M . Válec se může otáčet okolo vodorovné osy bez tření. Najděte zrychlení závaží m .



[řešení: zrychlení závaží: $a = g \frac{m}{m + \frac{J}{R^2}} = g \frac{m}{m + \frac{M}{2}}$]

Základní vztahy a údaje

Tuhé těleso

hmotný střed

$$\vec{R}_T = \frac{\sum_i m_i \vec{r}_i}{\sum_i m_i} = \frac{\int_V \vec{r} dV}{\int_V dV}$$
$$x_T = \frac{1}{M} \sum_i m_i x_i = \frac{1}{V} \int_V x dV$$
$$y_T = \frac{1}{M} \sum_i m_i y_i = \frac{1}{V} \int_V y dV$$
$$z_T = \frac{1}{M} \sum_i m_i z_i = \frac{1}{V} \int_V z dV$$

moment setrvačnosti

$$I = \sum_i m_i r_{\perp,i}^2 = \frac{M}{V} \int_V r_{\perp}^2 dV$$

r_{\perp} je kolmá vzdálenost od osy otáčení

tenzor setrvačnosti

$$I_{ij} = \frac{M}{V} \int_V (r^2 \delta_{ij} - x_i x_j) dV$$
$$r^2 = x_1^2 + x_2^2 + x_3^2 = x^2 + y^2 + z^2$$
$$\delta_{ij} = 1 \text{ pro } i = j, \delta_{ij} = 0 \text{ pro } i \neq j$$

moment setrvačnosti

(vzhledem k obecné ose)

$$I_{\nu} = \sum_{i,j=1}^3 I_{ij} \nu_i \nu_j$$
$$\vec{\nu} = (\nu_1, \nu_2, \nu_3)$$

$\vec{\nu}$ je jednotkový vektor ve směru osy otáčení

moment hybnosti

$$\vec{L} = \vec{r} \times \vec{p} = I \vec{\omega}$$

moment síly

$$\vec{M} = \vec{r} \times \vec{F} = I \vec{\varepsilon} = I \frac{d\vec{\omega}}{dt}$$

2. impulzová věta

$$\vec{M} = \frac{d\vec{L}}{dt}$$

kinetická energie

$$E_k = \frac{1}{2} I \omega^2$$

Pappova věta (o hmotném středu rovinného útvaru)

$$2\pi x_T \cdot S = V,$$

kde S je povrch rovinného útvaru, V je objem tělesa, které vznikne jeho rotací, a x_T je kolmá vzdálenost hmotného středu od osy otáčení.

Steinerova věta

$$I_o = I_T + MR_T^2,$$

kde I_T je moment setrvačnosti vzhledem k ose otáčení o_T procházející hmotným středem tělesa, I_o je moment setrvačnosti vzhledem k ose otáčení o , která je rovnoběžná s osou o_T a její kolmá vzdálenost od hmotného středu je R_T .